



ALUNO (A): _____

10/05 Á 14/05

PROFESSORA: _____ 4ºANO _____

QUERIDO ALUNO, ESTA ATIVIDADE DEVERÁ SER DEVOLVIDA NO DIA 17/05/2021 OU 18/05/2021 PARA SER AVALIADA PELA SUA PROFESSORA E CONTARÁ COMO PRESENÇA.

ATIVIDADE AVALIATIVA DE LÍNGUA PORTUGUESA 2º BIMESTRE

TEXTO 1

O menino que desenhava



Era uma vez um menino que adorava desenhar ao invés de fazer a lição.

Ele desenhava aviões, carrinhos, bolas e monstros. Todo mês sua mãe tinha que comprar um caderno novo, pois ele usava todas as folhas.


a) O que o menino gostava de fazer?

b) Quando sua mãe comprava um caderno novo?

c) Que desenhos ele fazia?

TEXTO 2

Ploff e o mar



Ploff é um cachorro que vive na praia. Todos os cachorros brincam de correr pela areia, mas Ploff não. Ele gosta mesmo é de pular e entrar no mar.

a) Onde vive Ploff?

b) O que os outros cachorros fazem?

c) O que Ploff faz?

TEXTO 3

O vestido de corações



Marina gosta de usar seu vestido roxo de corações quando vai para casa da avó.

Quando sua mãe põe o vestido nela, Marina sempre diz:

- Tum! Tum!

d) Quem veste o vestido de coração na Marina?

e) De que cor é o vestido?

f) O que Marina diz quando sua mãe põe o vestido nela?

Rodrigues, Flávia Miriam Carneiro. 444 histórias curtas para trabalhar leitura / São Paulo: s.n, 2012.

Você já pensou em utilizar uma espécie de caderno para anotar os fatos mais importantes do seu dia?


O Diário é um **gênero textual** que registra acontecimentos e impressões sobre situações da vida, diariamente. O Gênero textual **Diário Pessoal**: é formado por relatos íntimos que devem ser lidos apenas por quem escreveu o texto. Possui linguagem simples, cotidiana, sem preocupações literárias.

Companheirismo Diário

Hoje foi aniversário do meu querido Romeu. Ele fez 3 anos .

Fiquei lembrando tanta coisa...

Quando Romeu chegou em casa, era desse tamanho. Ele dormia na minha cama, enroladinho nos meus cabelos, para ficarquentinho. Quem escolheu o nome foi o papai. Ele disse que eu gostava tanto de gatinho que ele só podia ter esse nome. Depois fui descobrir que Romeu e Julieta são personagens da maior história de amor já escrita, uma peça de teatro do Shakespeare (Ih! Será que é assim que escreve?).



Eu sei que ele não é um gato de raça, mas aquela manchinha no olho é um charme!

Ziraldo, Diário da Julieta: as histórias mais secretas da Menina Maluquinha. São Paulo: Globo, 2010. P.90


1) Responda de acordo com o texto:

a) Como Julieta se refere ao diário?

b) Em que dia Julieta escreveu essa página?

c) Julieta está contando sobre o aniversário de 3 anos de Romeu. Quem é Romeu?

2) Julieta escreve em seu diário:



d) Quando Romeu chegou em casa, **era desse tamanho** Só pelas palavras destacadas neste texto é possível saber o tamanho exato do gato? Escreva uma frase do texto que comprove e confirme sua resposta.

e) Escreva duas palavras usadas por Julieta que demonstra seu afeto (carinho) pelo gato.

3) De acordo com nossos estudos **classifique** as palavras do texto "Diário e Julieta" em monossílaba (1 sílaba), dissílaba (2 sílaba) Trissílaba (3 sílaba) ou polissílaba. (4 ou mais sílabas).

- a) Chame _____
- b) Tamanhinho _____
- c) Gato _____
- d) Querido _____
- e) Aniversário _____
- f) Já _____
- g) Companheirismo _____

4) Siga o exemplo e construa palavras. Lembrando das vogais A-E-I-O-U e as consoantes B-C-D-F-G-H-J-K-L-M-N-P-Q-R-S-T-V-W-X-Y-Z.

C.V.C.V.C.V.=EXEMPLO CAMELO	C.C.V. EXEMPLO NHA
_____	_____
_____	_____
_____	_____
_____	_____
_____	_____
_____	_____

5) Forme a palavra usando as consoantes.

__ C __ A __ N __ E __ C __ A

_____ o _____ a.

_____ a _____ e _____ o

_____ o _____ e _____ a

_____ a _____ a _____ o

_____ e _____ e _____ a

_____ o _____ e _____ a

_____ a _____ a _____ a

_____ i _____ o _____ a

Verbetes é cada uma das palavras listadas num dicionário, enciclopédia ou glossário. É um conjunto de significações e explicações referentes a essas palavras.

Analise o verbete de um dicionário.

Gato

ga – to *substantivo masculino*

1. **1.MASTOZOOLOGIA•MAMÍFERO** pequeno mamífero carnívoro, doméstico, da fam. dos felídeos (*Felis catus*), que descende do gato selvagem encontrado na África e Sudoeste da Ásia (*Felis silvestris libyca*).
2. **2.MASTOZOOLOGIA•MAMÍFERO** design. comum aos felinos em geral.
3. Releia um trecho do **Diário de Julieta** sobre o gato Romeu e compare-o com verbete **Gato** de em dicionário.

DIÁRIO DE JULIETA

QUANDO ROMEU CHEGOU EM CASA, ERA DESSE TAMANHINHO. ELE DORMIA NA MINHA CAMA, ENROLADINHO NOS MEUS CABELOS, PARA FICAR QUENTINHO.

VERBETE DO DICIONÁRIO

PEQUENO MAMÍFERO DA FAMÍLIA DOS FELÍDEOS FELIS CATUS, CARNÍVORO E DOMÉSTICO, MUITO POPULAR COMO ANIMAL DE ESTIMAÇÃO; GATO CASEIRO: MEU GATO ADORA SE ANINHAR NO MEU COLO.

No diário, Julieta escreve como se estivesse conversando com alguém, e o texto revela emoção, sentimento. No trecho do dicionário isso também acontece? Explique.

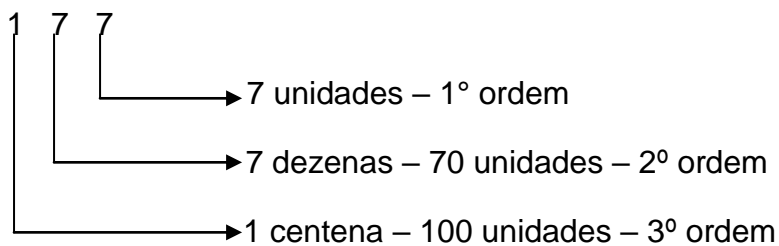
ATIVIDADE AVALIATIVA DE MATEMÁTICA - 2º BIMESTRE

Os números e suas ordens.

Os símbolos que usamos no sistema decimal é chamado de algarismo ou dígitos. Em um número cada algarismo ocupa uma posição que determina uma ordem dele. As ordens dos números são considerados da direita para a esquerda e cada ordem recebe um nome especial por exemplo , ordem das unidades, ordem das dezenas e outros.

1-O número 177 é formado por 3 algarismo por tanto , nele há 3 ordens.


Observe.




a) 5 3 4



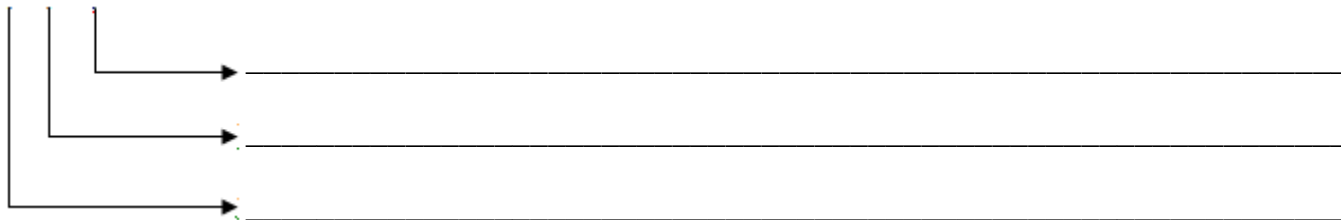
b) 2 0 9





c) 9 9



d) 8 5 7





2- Observe a tabela da ORDEM DAS CLASSES SIMPLES.

Classes simples.

3º ordem	2º ordem	1º ordem
CENTENA	DEZENA	UNIDADE
6	8	3
	5	6
3	7	3
	9	9

Com atenção, complete as lacunas abaixo:

- a) O número 683 tem _____ ordens .
- b) O algarismos 56 tem _____ ordens .
- c) O número 373 tem _____ ordens.
- d) O número 99 tem _____ ordens.
- e) A 1ª ordem se chama ? _____.
- f) A 3ª ordem se chama ? _____.
- g) A 2ª ordem se chama ? _____.
- h) Quais são os algarismos que ocupam a 3ª ordem? _____
- i) Escreva a decomposição do número 683:

LEIA COM ATENÇÃO.

Ao fazer a **DECOMPOSIÇÃO** nós separamos em unidades as ordens que formam os números.

Veja o exemplo : $235 = 200 + 30 + 5$

Quando juntamos as unidades de um número dizemos que estamos fazendo a

COMPOSIÇÃO :

Veja o exemplo : $200 + 30 + 5 = 235$

1- Decomponha os números abaixo :

a) $389 =$ _____

b) $255 =$ _____

c) $58 =$ _____

d) $666 =$ _____

e) $915 =$ _____

f) $99 =$ _____

g) $321 =$ _____

2- Componha os números :

a) $100 + 40 + 4 = \underline{144}$

b) $90 + 1 =$ _____

c) $300 + 30 + 3 =$ _____

d) $600 + 5 =$ _____

e) $200 + 10 + 8 =$ _____

f) $80 + 8 =$ _____

g) $500 + 40 + 5 =$ _____

Marque com um (x) a resposta correta:

3 - Maria tem uma coleção com 657 carrinhos.

Este número é composto por:

(a) 6 dezenas , 5 centenas e 7 unidades.

(b) 6 centenas, 5 dezenas e 7 unidades .

(c) 6 unidades 5 centenas e 7 dezenas.

4 - Lia mora na casa de número 792.

Uma das decomposições desse número é:

- (a) $700 + 90 + 2$
- (b) $900 + 90 + 2$
- (c) $700 + 20 + 9$

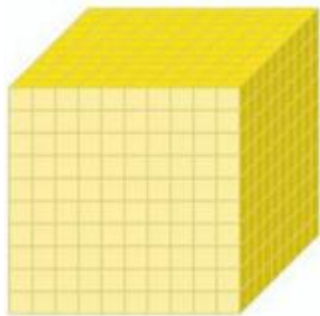



5- O número que está escrito no quadro possui três algarismos.



O valor posicional do algarismo 3 é

- (a) 3
- (b) 30
- (c) 300

6 - Observe o material dourado e registre o número no quadro abaixo com o valor correspondente. Em seguida responda as questões:

			
UNIDADE DE MILHAR	CENTENAS	DEZENA	UNIDADES

a) Escreva o nome do número que formou.

b) Quanto vale o algarismo da unidade?

c) Quanto vale o algarismo da dezena?

d) Quanto vale o algarismo da centena?

7) -Situações problemas .

a) Ana fez 7 dezenas e 8 unidades de cocadas para mamãe. Para a vovó fez 2 dezenas e 6 unidades. Quantas cocadas Ana fez ao todo?

cálculos

C	D	U

R= Ana fez ao todo _____ cocadas.

b) Marcelo tinha uma centena de figurinhas deu duas dezenas a Fernanda. Com quantas figurinhas Marcelo ficou?

C	D	U

R: _____

c) Numa horta há duas centenas de tomateiros, três dezenas de repolhos e oito unidades de alface. Quantos pés há ao todo?

C	D	U

R: _____

d) Ana Paula colheu 9 dezenas de laranjas e Lia colheu 8 dezenas. Quantas laranjas as duas colheram juntas?

C	D	U

R: _____

e) Uma biblioteca tem a disposição 4 centenas de livros de leitura e 2 centenas de livros de gibi e 5 dezenas de livros de pesquisa. Quantos livros possui esta biblioteca?

C	D	U

R: _____

f) Beto fez 4 centenas de pontos num jogo, José fez 5 centenas de pontos. Quantos pontos fizeram juntos?

C	D	U

R: _____

g) Titia comprou 2 centenas de salgados para sua festa de aniversário e mamãe comprou 5 dezenas de salgados. Quantos salgados as duas comparam juntas?

C	D	U

R: _____

8) Siga o exemplo, e resolva as operações abaixo:

a) $328 + 15 = 343$

g) $485 - 322 = \underline{\hspace{2cm}}$

b) $622 + 317 = \underline{\hspace{2cm}}$

h) $631 - 28 = \underline{\hspace{2cm}}$

c) $98 + 16 = \underline{\hspace{2cm}}$

i) $720 - 116 = \underline{\hspace{2cm}}$

d) $453 + 27 = \underline{\hspace{2cm}}$

j) $63 - 17 = \underline{\hspace{2cm}}$

e) $932 + 083 = \underline{\hspace{2cm}}$

k) $531 - 216 = \underline{\hspace{2cm}}$

f) $304 + 620 = \underline{\hspace{2cm}}$

l) $363 - 144 = \underline{\hspace{2cm}}$

Exemplo:

a) $\begin{array}{r} 1 \\ 328 \\ + 15 \\ \hline 343 \end{array}$	b)	c)	d)
e)	f)	g)	h)
i)	j)	k)	l)